



۱۳۷۰

باسمه تعالی

موسسه‌ی فرهنگی آموزشی پیوند ادب  
پیش دبستان و دبستان (هوشمند) دخترانه پیوند

سوالات گذر از تابستان

نام و نام خانوادگی :

کلاس : ورودی چهارم به پنجم



۱- ۱- عدد زیر را با حروف بنویسید و سپس به سؤالات مربوط به آن پاسخ دهید .

۶۷۸۹۳۱۲۴

الف ( بزرگ‌ترین رقم در چه ارزش مکانی قرار دارد .

ب ( کوچک‌ترین رقم در چه ارزش مکانی قرار دارد .

ج ( کدام رقم در بیش‌ترین ارزش مکانی قرار دارد .

د ( کدام رقم در کم‌ترین ارزش مکانی قرار دارد .

ث ( این عدد چند رقمی است .

د ( چه عددی در طبقه‌ی میلیون قرار دارد .

۲-  $\frac{۱۸}{۳۰}$  یک زمین را برنج کاشته‌اند و  $\frac{۵}{۳۰}$  آن را هم لوبیا کاشته‌اند .

الف ( بگویید چه کسری از زمین را برنج و لوبیا کاشته‌اند ؟

ب ( چه کسری از زمین هیچ چیزی کاشته نشده است ؟



۳- تقسیم زیر را به روش فرایندی حل نمایید .

$$\begin{array}{r|l} 4967 & 37 \\ \hline & \end{array}$$

$$\begin{array}{r|l} 768 & 21 \\ \hline & \end{array}$$

۴- ضربهای زیر را به روش فرایندی حل نمایید .

$$\begin{array}{r} 63 \\ \times 29 \\ \hline \end{array}$$

$$\begin{array}{r} 47 \\ \times 22 \\ \hline \end{array}$$

۵- جمع و تفریق زیر را روی محور نمایش دهید .

$$\frac{5}{9} - \frac{3}{9} =$$



$$\frac{3}{2} + \frac{1}{6} =$$





۱۳۷۰

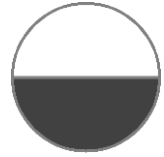
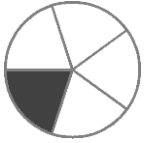
باسمه تعالی

موسسه‌ی فرهنگی آموزشی پیوند ادب  
پیش دبستان و دبستان (هوشمند) دخترانه پیوند

نام و نام خانوادگی :  
کلاس : ورودی چهارم به پنجم

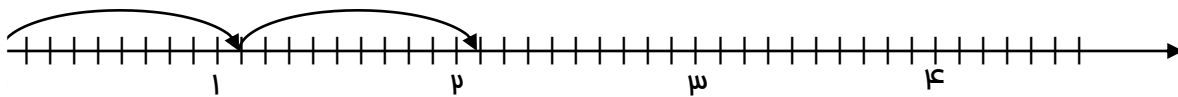
سوالات گذر از تابستان

۸- برای هر یک از شکل‌های زیر مانند نمونه بنویس .



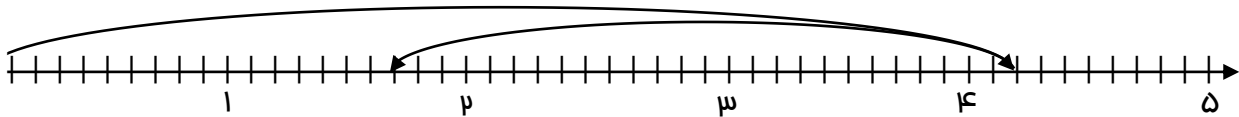
یعنی  $\frac{1}{2}$

۹- برای حرکت روی محور یک جمع و تفریق بنویسید . ( به صورت اعشاری و کسری )



کسری ..... + ..... = .....

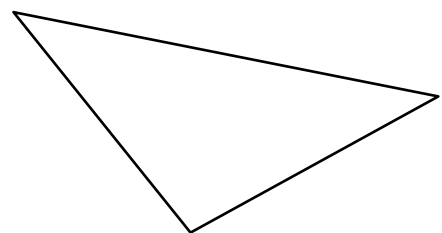
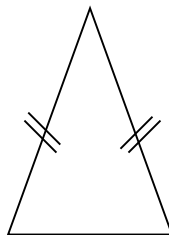
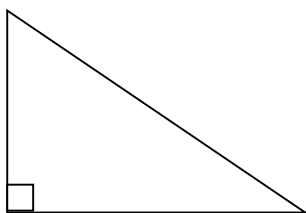
اعشاری ..... + ..... = .....



کسری ..... + ..... = .....

اعشاری ..... + ..... = .....

۱۰- ارتفاع هر یک از مثلث‌های زیر را رسم کنید .



## فارسی



۱- غلط‌های متن‌های زیر را پیدا کنید و صحیح آن‌ها را بنویسید .

هشرات گوناگون ، زنبورهای اسل و پروانه‌ها را روی گل‌ها و و پرندگان در دشت‌ها و جنگل‌ها در حال پرواز نشان داد . خرگوش را میان جنگل و قوک را در برکه نشانید . کنار جنگل را با بته‌های عنبوه تمشک زینت داد . آنقدر سیب گل گون و گلابی آویخت که شاخه‌ها تاب نیاوردند .

۲- ویرگول را تعریف کنید و برای آن مثالی بزنید .

۳- چند واژه‌ی هم آوا مثال بزن .

مانند : خوار = « خار .....

۴- شاعر شعرهای زیر را بنویسید .

\* روباه و زاغ : ..... ستایش خدا : .....

باز باران : .....

۵- معنی کلمات زیر را بنویسید .

ارمغان : ..... غلام : .....

خواجه : ..... سوغاتی : .....

بازرگان : ..... پی در پی : .....

کنیزک : ..... بازگو : .....



۱۳۷۰

باسمه تعالی

موسسه‌ی فرهنگی آموزشی پیوند ادب  
پیش دبستان و دبستان (هوشمند) دخترانه پیوند

سوالات گذر از تابستان

نام و نام خانوادگی :



کلاس : ورودی چهارم به پنجم

۸- در جاهای خالی علامت مناسب ( . - ، - ؟ - ! - : - « » ) بگذار .

دیروز ( ) آموزگار گفت ( ) ( ) بچه‌های عزیزم ( ) کدام یک از شما تمرین‌های خود را انجام داده است ( ) ( ) همه‌ی

دانش آموزان پاسخ دادند ( ) من ( ) آموزگار گفت « آفرین ( ) چه کلاسی ( ) از همه تشکر می‌کنم ( ) »

۹- کلمه‌های هم خانواده را به هم وصل کن .



۱۰- مخالف هر کلمه را بنویس .


دور و دراز ≠ .....

زیبایی ≠ .....

خراب ≠ .....

غصه ≠ .....

جلو ≠ .....



۱\_ به چه موادی رسانای گرما می‌گویند؟



۲\_ عمل دم و بازدم را توضیح دهید؟

۳\_ کار قلب چیست؟

۴\_ حشرات چه ویژگی‌هایی دارند؟

۵\_ زالو چیست؟ در کجا زندگی می‌کند و از چه چیزی تغذیه می‌کند؟

۶\_ گرده افشانی را تعریف کنید؟



باسمه تعالی

موسسه‌ی فرهنگی آموزشی پیوند ادب  
پیش دبستان و دبستان (هوشمند) دخترانه پیوند

سوالات گذر از تابستان

نام و نام خانوادگی :

کلاس : ورودی چهارم به پنجم

۷\_ به چه گیاهانی دانه دار می گویند؟

۸\_ انسان ها چگونه زیستگاه طبیعی را از بین می برند؟

۹\_ مخلوط را تعریف کنید و انواع آن را نام ببرید؟

۱۰\_ در زمستان بیشتر از چه رنگ لباس هایی استفاده می کنیم. چرا؟

